

2026 年度（令和 8 年度）

横浜女学院中学校
A 入学試験問題

令和 8 年 2 月 1 日（午前）

社 会

注 意

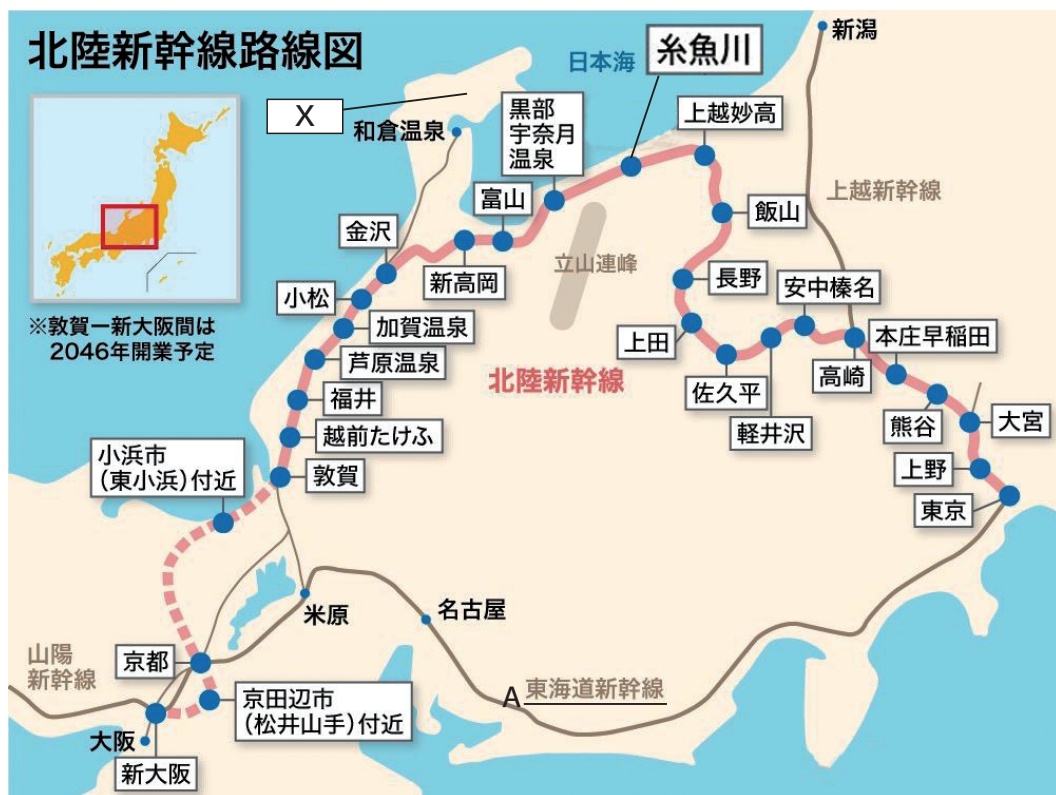
- 1 指示があるまで開けないでください。
- 2 問題は、13 ページあります。
- 3 解答はすべて解答用紙に記入しなさい。
- 4 試験所要時間は 30 分です。

受験番号	氏 名
------	-----

[1] 次の文章を読み、各問いに答えなさい。

2024年3月、北陸新幹線が、福井県の敦賀駅まで延伸開業しました。開業する前は東京駅から敦賀駅まで行く途中で金沢駅から在来線に乗り換えが必要でした。もしくは、**A** 東海道新幹線の名古屋駅で乗り換えが必要でしたが、開業によって乗り換えをすることなく約3時間で結ばれました。

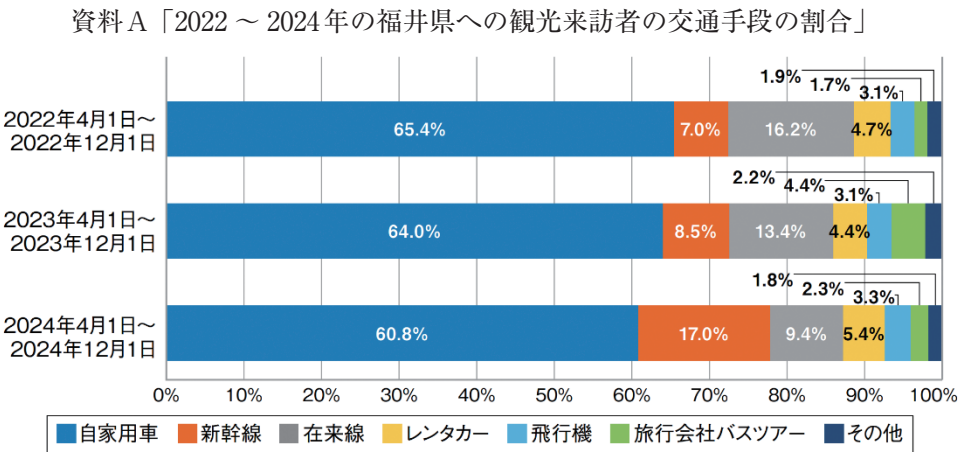
地図



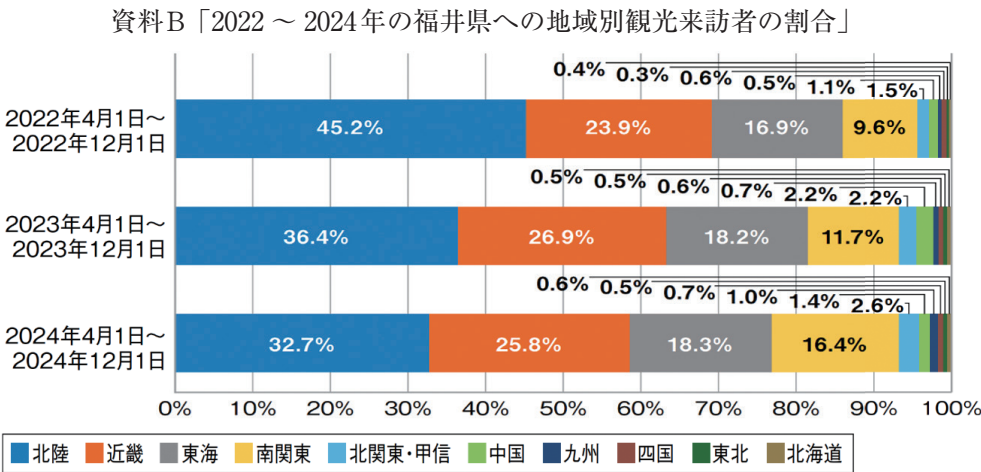
出典 日本経済新聞 2025年5月アクセス

問1 資料A・資料Bをみて、2024年3月に北陸新幹線が敦賀駅（福井県）まで延伸開業したことによる影響として誤っているものを（ア）～（エ）からひとつ選び記号で答えなさい。

- （ア）首都圏から福井県への観光来訪者の割合は増加した。
- （イ）在来線を利用する観光来訪者の割合は増加した。
- （ウ）北陸に住んでいる観光来訪者の割合は減少した。
- （エ）福井県への自家用車を利用する観光来訪者の割合は減少した。



出典 福井県観光データ分析システム「FTAS」



出典 福井県観光データ分析システム「FTAS」

問2 北陸地域は降雪^{こうせつ}が多く、北陸新幹線^{えんしんこうじ}の延伸工事では、降雪^{こうりょ}を考慮した工事を行います。
降雪が多い主な理由として正しいものを（ア）～（エ）からひとつ選び記号で答えなさい。

- （ア）北西からしめった季節風^ふが吹き、雪雲が発生しやすい。
- （イ）夏に台風が接近するため。
- （ウ）冬に日本海から暖かい風が吹くため。
- （エ）冬に太平洋側から乾いた風が吹くため。

問3① 地図の の半島の名称を答えなさい。

② の半島では、伝統工芸品^{しつぎ}の漆器の生産に影響が出ました。 の半島で、
伝統工芸品の漆器の生産を行っている都市の名称として正しいものを（ア）～（エ）
からひとつ選び記号で答えなさい。

- （ア）加賀 （イ）有田 （ウ）金沢 （エ）輪島

問4 地図中の新潟県糸魚川は、本州の中央部を南北にはしる大きな地溝帯^{ちこうたい}の西端^{せいたん}に位置し
ます。本州の中央部を南北にはしる大きな地溝帯^{めいしょう}の名称をカタカナで答えなさい。

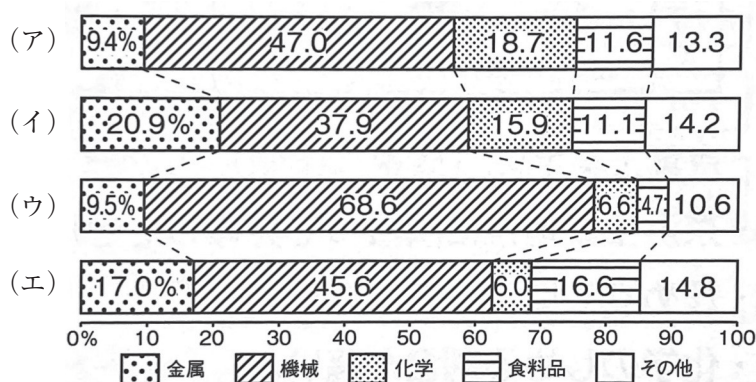
問5 北陸新幹線が通る富山県では、1910年代から1970年代前半にかけて公害問題が起き
ました。富山県で起きた公害問題の名称として正しいものを（ア）～（エ）からひとつ
選び記号で答えなさい。

- （ア）水俣病 （イ）イタイイタイ病
（ウ）四日市ぜんそく （エ）脚氣^{かっけ}

問6 地図・文章中のA「東海道新幹線」に関して①・②それぞれの問いに答えなさい。

① 東京＝新大阪間を結んでいる東海道新幹線ですが、現在、東京の品川駅から名古屋駅間を結ぶ新しい超電導磁石の力で浮上して走行する高速鉄道「○○○中央新幹線」の建設が進んでいます。○○○に入るカタカナ3文字を答えなさい。

② 東海道新幹線は、中京工業地帯を通る新幹線です。2019年の中京工業地帯の出荷額の割合を示すグラフを（ア）～（エ）からひとつ選び記号で答えなさい。



出典 日本国勢図会 2022/23

問7 全国生産量の上位3位に入る中部地方で育てられている特産物と生産場所の組み合わせとして誤っているものを（ア）～（エ）からひとつ選び記号で答えなさい。

- | | |
|---------------|------------|
| (ア) 石川・チューリップ | (イ) 山梨・ぶどう |
| (ウ) 長野・レタス | (エ) 静岡・みかん |

[2] 国家、社会集団、個人のそれぞれの視点で「ものの見方」が異なることがあります。例えば個人レベルでみた多くの人々の関心ごとは「家族」「友人」の安全と健康や自分が生き生きと生活できることなどです。これを国家のレベルに引き上げてみると、「安全保障」「外交」「貿易」など関心ごとが大きく変わっていきます。歴史もこのような「ものの見方」でとらえ直すと新たな発見が見つかるかもしれません。歴史上の人物や国家・社会集団の「ものの見方」について各問いに答えなさい。

問1 縄文時代の特徴として正しいものを(ア)～(エ)からひとつ選び記号で答えなさい。

- (ア) 狩猟・採集の生活が営まれていた。
- (イ) 鉄製の農具が普及した。
- (ウ) 稲作が全国に普及した。
- (エ) 亡くなった有力者を大きな古墳に埋葬した。

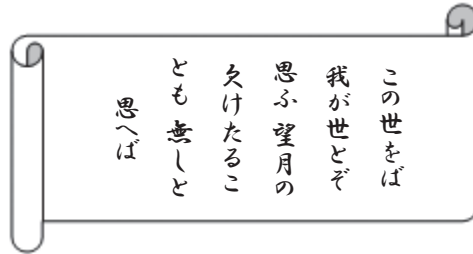
問2 平安時代に朝廷は坂上田村麻呂を征夷大將軍に任命して東北地方の平定を命じました。このときに朝廷と戦った東北の勢力を(ア)～(エ)からひとつ選び記号で答えなさい。

- (ア) 蝦夷 (イ) 藤原氏 (ウ) 平将門 (エ) 崇徳上皇

問3 奈良の東大寺と平泉の中尊寺金色堂はときの有力者が国土の平和と発展を願って建設を命じた建造物です。この2つの建造物が属する宗教を(ア)～(エ)からひとつ選び記号で答えなさい。

- (ア) 神道 (イ) 道教 (ウ) 儒教 (エ) 仏教

問4 次の歌は、平安時代にある人物が自身の栄華を^{えい が ほこ}誇って書いたといわれています。この歌を書いた人物を（ア）～（エ）からひとつ選び記号で答えなさい。



※注）現代語訳「この世は自分のものであると思う、満月が欠けていないように」

（ア）源頼朝 （イ）平清盛 （ウ）菅原道真 （エ）藤原道長

問5 「南北朝時代」では朝廷が京都（北朝）と奈良（南朝）に^{ぶんれつ}分裂していました。朝廷が2つに分裂した理由として正しい説明文を（ア）～（エ）からひとつ選び記号で答えなさい。

- （ア）足利尊氏が後醍醐天皇と対立して北朝を立てたため、南北朝に分裂した。
- （イ）後醍醐天皇が南朝に反発して京都に北朝を開いたため朝廷が分裂した。
- （ウ）3代将軍の足利義満が北朝と南朝を分裂させた。
- （エ）鎌倉幕府の北条氏が北朝を支持し、南朝と対立した。

問6 中国の官^{かんり}僚^{りょう}制度^{せいど}を参考に「冠位十二階」をつくった人物を（ア）～（エ）からひとつ選び記号で答えなさい。

（ア）聖徳太子（^{うまやどの み こ}厩戸皇子） （イ）卑弥呼 （ウ）^{そ が の い る か}蘇我入鹿 （エ）^{もの の べ の も り や}物部守屋

問7 明治政府が主に長州と薩摩の出身者で行っていた政治の体制を何と言うか（ア）～（エ）からひとつ選び記号で答えなさい。

（ア）関白政治 （イ）院政 （ウ）^{はんばつ}藩閥政治 （エ）^{こけん}護憲政治

問8 明治時代に日本が他国と朝鮮半島の支配をめぐり戦った戦争を（ア）～（エ）からひとつ選び記号で答えなさい。

（ア）西南戦争 （イ）第一次世界大戦 （ウ）朝鮮戦争 （エ）日清戦争

問9 写真は1945年に日本が連合軍の占領^{せんりょう}下に置かれたときに、日本の統治を指導した連合軍最高司令官です。この人物の名前を答えなさい。



[3] 次の会話は法学部に通う大学生の愛さんと、弟で高校2年生の誠^{まこと}さんの会話です。以下の問いに答えなさい。

愛さん：(A) 憲法は国家の組織や公的機関の仕組みと権限^{きてい}を規定しているんだ。

誠さん：なるほど。じゃあ、憲法がどうやって私たちの権利を守るの？

愛さん：憲法は(B) 人々の権利や自由を保障してるんだ。国家や公的機関は、正当な理由がない限り、これらの権利^{しんがいは}を侵害してはいけないってことをはっきり示している。

誠さん：権利を侵害することはできないんだね。でも、政府の権限の限界はどうやって決められているの？

愛さん：18世紀以降、近代立憲主義のもと、憲法は国民の同意^{こんきよ}を主な根拠^{こんきよ}にしているんだ。つまり、政府の権限行使^{こうし}には制限があるってことだね。

誠さん：それで、憲法に違反する行為って無効になるの？

愛さん：そうだよ。憲法に根拠^{こんきよ}がない行為や、憲法を無視した行動は無効^{むこう}とされる。ただ、それを実際に止める仕組みを憲法に入れるのは難しいんだ。

誠さん：なるほど、どのように止めるかが問題なんだね。最近ではどうなっているの？

愛さん：20世紀後半には、政府の権限行使が憲法^{てきこう}に適合^{しんさ}しているか審査する仕組みが整ったよ。(C) 裁判所にその権限を与えているよ。

誠さん：それは重要な進展だね。憲法はどんな約束を人々にしているの？

愛さん：憲法は(D) 国家ができること、できないことを宣言^{せんげん}して、その約束を守ることが人々に約束しているんだ。また、国際的な基準も尊重しなければならない。

問1 下線部（A）に関して、以下の文章を読み①～③の問いにそれぞれ答えなさい。

憲法は定める主体によって「 憲法」と「 憲法」に分類されます。
 憲法は国を治める君主が、 憲法は国民主体で定めるものです。大日本帝国憲法は、当時の日本の君主であった天皇が国民にあたえる、という形式をとっていたため、 憲法に該当します。日本初となる憲法の草案をつくるために、明治政府は、すでに憲法を制定していたヨーロッパ諸国を調査してまわります。調査に携わった伊藤博文は、 憲法に着目し、草案をつくる際の参考とすることを決めました。大日本帝国憲法のもとでは、主権は「天皇」にありました。一方、日本国憲法では、

① 文中の・・に入る適切な語句として正しい組み合わせを（ア）～（エ）からひとつ選び記号で答えなさい。

- | | | | |
|-----|---|------------------------------------|---------------------------------------|
| （ア） | <input type="text" value="X"/> ： ^{きんてい} 欽定 | <input type="text" value="Y"/> ：民定 | <input type="text" value="Z"/> ：イギリス |
| （イ） | <input type="text" value="X"/> ：欽定 | <input type="text" value="Y"/> ：民定 | <input type="text" value="Z"/> ：プロイセン |
| （ウ） | <input type="text" value="X"/> ：民定 | <input type="text" value="Y"/> ：欽定 | <input type="text" value="Z"/> ：イギリス |
| （エ） | <input type="text" value="X"/> ：民定 | <input type="text" value="Y"/> ：欽定 | <input type="text" value="Z"/> ：プロイセン |

② 文中の空欄^{くうらん}に当てはまる文章として正しい文章を（ア）～（エ）からひとつ選び記号で答えなさい。

- （ア）主権は、「天皇」にあります。立法・行政・司法はもちろん、軍事や予算決定など、国政に関する権限はすべて天皇が持っています。
- （イ）主権は、「天皇」にあります。天皇は日本国民統合の象徴^{しょうちょう}とされ、天皇が出来る行為は国事行為に限られています。
- （ウ）主権は、「国民」にあります。立法・行政・司法はもちろん、軍事や予算決定など、国政に関する権限はすべて天皇が持っています。
- （エ）主権は、「国民」にあります。天皇は日本国民統合の象徴とされ、天皇が出来る行為は国事行為に限られています。

- ③ 憲法改正について現在、議論が進んでいます。憲法改正の手続きについて以下の文章を読み、文中 X ・ Y ・ Z に入る正しい組み合わせを（ア）～（ク）からひとつ選び記号で答えなさい。

日本の憲法改正の手続きは、憲法第 X 条で定められています。この手続きは、憲法の変更を行う際に必要な要件を明確にするものであり、以下のようなステップで進められます。

まず、憲法改正を提案するには、国会における手続きが必要です。具体的には、改正案は国会の両院、すなわち衆議院と参議院のそれぞれで、総議員の Y の賛成を得ることが求められます。この議論は非常に重要であり、十分な審議により行われるべきです。

次に、改正案は、国民投票にかけられます。この国民投票は、改正案の内容に対して全国の成人国民がその賛否を直接表明する機会を提供します。国民投票では、投票した人々の Z が賛成する必要があります。

このように、日本における憲法改正の手続きは、国会での厳格な審議を経て、最終的には国民の意思を直接反映させることを重視しています。この手続きの特徴は、憲法の改正が容易ではないことを示し、憲法の安定性と国民の基本的な権利の保護を確保する意図があると言えます。

- | | | |
|--|--|--|
| （ア） <input type="text"/> X <input type="text"/> : 96 | <input type="text"/> Y <input type="text"/> : 3分の2 | <input type="text"/> Z <input type="text"/> : 3分の2 |
| （イ） <input type="text"/> X <input type="text"/> : 96 | <input type="text"/> Y <input type="text"/> : 過半数 | <input type="text"/> Z <input type="text"/> : 3分の2 |
| （ウ） <input type="text"/> X <input type="text"/> : 96 | <input type="text"/> Y <input type="text"/> : 3分の2 | <input type="text"/> Z <input type="text"/> : 過半数 |
| （エ） <input type="text"/> X <input type="text"/> : 96 | <input type="text"/> Y <input type="text"/> : 過半数 | <input type="text"/> Z <input type="text"/> : 過半数 |
| （オ） <input type="text"/> X <input type="text"/> : 9 | <input type="text"/> Y <input type="text"/> : 3分の2 | <input type="text"/> Z <input type="text"/> : 3分の2 |
| （カ） <input type="text"/> X <input type="text"/> : 9 | <input type="text"/> Y <input type="text"/> : 過半数 | <input type="text"/> Z <input type="text"/> : 3分の2 |
| （キ） <input type="text"/> X <input type="text"/> : 9 | <input type="text"/> Y <input type="text"/> : 3分の2 | <input type="text"/> Z <input type="text"/> : 過半数 |
| （ク） <input type="text"/> X <input type="text"/> : 9 | <input type="text"/> Y <input type="text"/> : 過半数 | <input type="text"/> Z <input type="text"/> : 過半数 |

問2 下線部(B)に関して1948年に国連総会で採^{さい}択された宣言として正しいものを(ア)～(エ)からひとつ選び記号で答えなさい。

- (ア) ポツダム宣言 (イ) 世界人権宣言
(ウ) フランス人権宣言 (エ) アメリカ独立宣言

問3 下線部(C)に関して①・②それぞれの問いに答えなさい。

① 日本の裁判所について述べた文章として誤^{あやま}っているものを(ア)～(エ)からひとつ選び記号で答えなさい。

- (ア) 重要な刑事事件の第1審では裁判員裁判を2009年から導入している。裁判員裁判は原則として裁判員6名と裁判官3名の計9名で審議^{しんぎ}を行う。
(イ) 日本は慎重^{しんちょう}に裁判を行うため、原則として3回まで裁判を受けられる三審制^{さんしんせい}を採用している。
(ウ) 各都道府県に高等裁判所が設置され、神奈川には横浜市に高等裁判所が置かれている。
(エ) 判決が決定したのち、新たな証拠^{しょうこ}などが出てきた場合、再審請求^{さいしんせいきゅう}をすることができる。

② 各裁判所が持っている、国会で制定された法律などが憲法に違反していないかを審査^{しんさ}する権限を答えなさい。

問4 下線部（D）に関して①～③の問いにそれぞれ答えなさい。

- ① 2025年7月に実施された都道府県選挙区と比例代表制で国会議員を選ぶ選挙は次のうちどれですか。正しいものを（ア）～（エ）からひとつ選び記号で答えなさい。

- （ア）衆議院議員選挙
- （イ）参議院議員選挙
- （ウ）地方議会議員選挙
- （エ）国民審査

- ② 三権分立により、国会が持っている権力を漢字2文字で答えなさい。

- ③ 以下の文章は2025年1月24日のNHKによる国会に関する報道内容です。開会した国会の種類として正しいものを（ア）～（エ）からひとつ選び記号で答えなさい。

石破総理大臣は少数与党となる中、新年度予算案などの成立に向けて各党と濃密な議論を行い、合意形成を図る考えを示しました。一方、立憲民主党の野田代表は、予算案の内容を精査して修正を迫るなど、党の存在感を示したいと強調しました。

- （ア）通常国会
- （イ）臨時国会
- （ウ）特別国会
- （エ）緊急集会

[4] 現在、日本の地方では人口減少と高齢化が進み、公共交通（バス・鉄道）の利用者が減少しています。運転手不足や燃料価格上昇のために、利益が見込めず、路線縮小・廃線が相次いでいます。

問1 このような公共交通の衰退は、地域の人々の生活にどのような影響を与えられますか。

問2 公共交通の衰退を防ぎ、地域の人々が安心して暮らせるようにするためには、どのような取り組みが必要だと思いますか。

