

2026 年度（令和 8 年度）

横浜女学院中学校

B 入学試験問題

令和 8 年 2 月 1 日（午後）

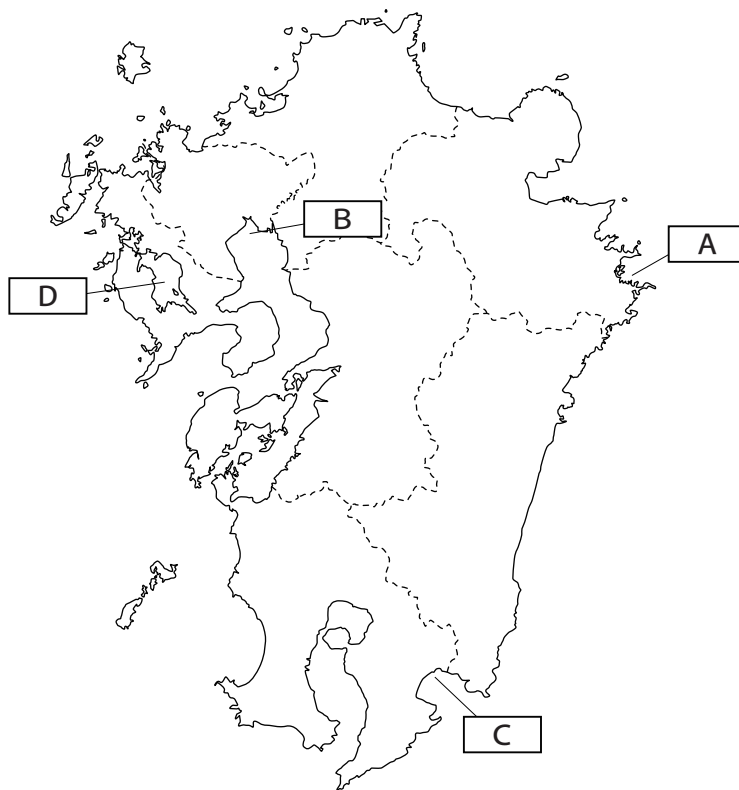
社 会

注 意

- 1 指示があるまで開けないでください。
- 2 問題は、15 ページあります。
- 3 解答はすべて解答用紙に記入しなさい。
- 4 試験所要時間は 30 分です。

受験番号	氏 名
------	-----

[1] 九州地方について地図を見て以下の問いに答えなさい。



九州地方は、四方を海に囲まれ、黒潮と対馬海流の大きな暖流が流れる温暖な地域で、遠洋・近海漁業の漁場です。また、東シナ海、太平洋、日本海に出港しやすい位置にあり、多くの離島・半島による複雑な海岸線を有し、さまざまな沿岸漁業・養殖ようしよくも行われています。

問1 ① 九州地方で行われている養殖とその産地の組み合わせとして正しいものを(ア)～(エ)からひとつ選び記号で答えなさい。

- | | |
|-------------|---------------------------------|
| (ア) ホタテ・三河湾 | (イ) 真珠・志摩半島 <small>しんじゆ</small> |
| (ウ) のり・有明海 | (エ) かき・陸奥湾 |

② ①で答えた産地を地図中 A ～ D から選び、記号で答えなさい。

問2 鹿児島県について、以下の文章（ア）～（エ）から誤っているものをひとつ選び記号で答えなさい。

（ア）火山灰地のシラス台地は水もちが良いために、米の生産には向いている。

（イ）さつまいもの生産量は全国一である。

（ウ）かつおやまぐろの漁業が行われている。

（エ）茶の生産額は全国上位である。

問3 九州地方では、畜産が盛んです。以下の表は、2021年の乳牛と肉牛と豚^{ぶた}の「家畜の飼育頭数」です。（ X ）に入る都道府県を答えなさい。

乳牛		
順位	万頭	%
（ X ）	83.0	61.2
栃木	5.3	3.9
熊本	4.4	3.2

肉牛		
順位	万頭	%
（ X ）	53.6	20.6
鹿児島	35.1	13.5
宮崎	25.0	9.6

豚		
順位	万頭	%
鹿児島	123.4	13.3
宮崎	79.7	8.6
（ X ）	72.5	7.8

出典 日本国勢国会 2022/23

問4 九州地方は、日本有数の石炭の産地でした。しかし、1960年代に燃料は石炭ではなく、石油が使用されるようになりました。この出来事を何というか7文字で答えなさい。

問5 九州地方にある北九州工業地域を説明する以下の文章で正しいものを（ア）～（ウ）からひとつ選び記号で答えなさい。

（ア）消費地から近いなどの理由から1970年代以降、生産額がのびている。

（イ）明治時代に八幡製鉄所^{やはたせいてつじょ}が設立され工業生産額が増えた。

（ウ）生産額は、第二次世界大戦前、四大工業地帯の中で第一位であった。

問6 九州地方では、北九州工業地域の発展に伴い、公害問題が起きました。九州地方で起きた四大公害病と発生した県の組み合わせとして正しいものを（ア）～（エ）からひとつ選び記号で答えなさい。

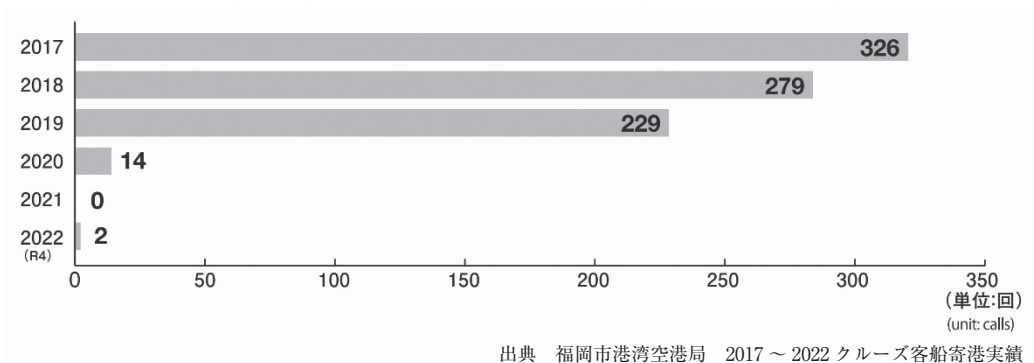
（ア）水俣病・宮崎県

（イ）水俣病・熊本県

（ウ）イタイイタイ病・宮崎県

（エ）イタイイタイ病・熊本県

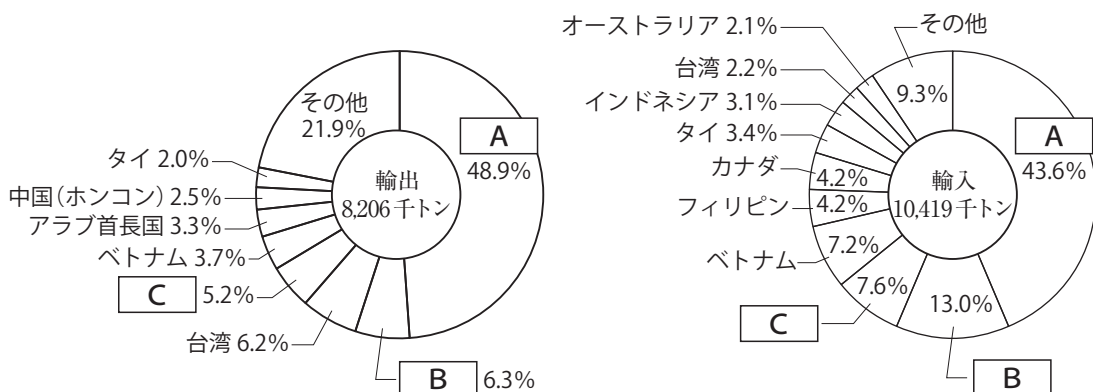
問7 九州地方は、日本の国際的な玄関口でもあります。以下の資料は2017～2022年の博多湾に寄港したクルーズ船の数です。2020年から大きく減少している理由を答えなさい。



問8 以下の資料は、2021年の博多港の外国貿易における輸出入の国別のグラフです。

A・**B**・**C**には、日本と貿易が盛んな国がそれぞれ入ります。

Aに入る国名として正しいものを(ア)～(エ)からひとつ選び記号で答えなさい。



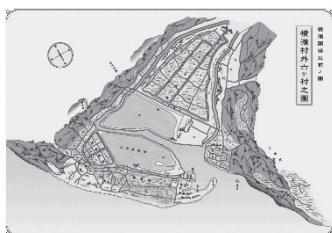
出典 福岡市港湾空港局 博多港統計年報 2021

(ア) アメリカ (イ) 中国 (ウ) 韓国 (エ) ロシア

[2] 歴史は、過去の出来事を現代の問題と比較すること^{ひかく}で私たちの社会や私たち自身について新しい視点や理解を与えてくれます。そのためには、歴史的出来事の「原因」と「結果」の間のプロセスを理解することが重要です。歴史上の出来事の「原因」と「結果」について、各問いに答えなさい。

問1 横浜港は工業製品から食料品まで様々な品物を運ぶコンテナ船だけでなく、国内外から旅行客を乗せた大型クルーズ船も寄港する日本有数の大きな港です。しかし、そんな横浜港も160年ほど前までは小さな漁村^{きこう}に過ぎませんでした。左下は開港前の横浜の地図と、右下は現在の横浜港の写真です。港湾都市^{こうわんとし}としての発展ぶりがよくわかります。横浜港がなぜ発展できたのか、その「原因」について①～④の各問いに答えなさい。

[開港前]



[現在の横浜港]



① 徳川幕府は長らく中国やオランダなどといった限られた国々^{ていとく}としか貿易を許可していませんでした。いわゆる「鎖国体制」です。1858年、幕府がアメリカなどの他国と貿易を開始する以前に起きた出来事の説明を（ア）～（エ）からひとつ選び記号で答えなさい。

- （ア）ペリー提督^{ていとく}が率いるアメリカの艦隊^{かんたい}が浦賀沖に来航し幕府に圧力をかけた。
- （イ）国内の混乱が原因で徳川慶喜にかわり、政治の実権が朝廷に返された。
- （ウ）新政府軍の西郷隆盛が幕府の勝海舟との会談後、江戸への無血入城を果たした。
- （エ）日米通商条約の内容を改めるため、様々な近代的な改革が幕府によって行われた。

- ② 幕末から明治初期において、横浜港から輸出されたものとして最も割合が大きい日本の代表的な輸出品を（ア）～（エ）からひとつ選び記号で答えなさい。

（ア）綿織物 （イ）生糸 （ウ）石炭 （エ）茶

- ③ 次の資料は1923年9月1日に発生した大地震による横浜市内の被害の様子をおさめた写真（左）と、地震による被害からの復興^{いの}を祈ってつくられた現在の山下公園の写真（右）です。写真に記録されている地震を（ア）～（エ）からひとつ選び記号で答えなさい。

[1923年9月2日 横浜市内]



[現在の山下公園]



（ア）阪神淡路大震災 （イ）東日本大震災
（ウ）関東大震災 （エ）昭和南海地震

- ④ 日米が19世紀半ばに結んだ「日米修好通商条約」の説明として正しいものを（ア）～（エ）からひとつ選び記号で答えなさい。

（ア）アメリカは日本と対等な関係を求め、日本には関税自主権が認められていた。
（イ）アメリカ人の領事は日本において裁判を行う権利が認められていた。
（ウ）^{はこだて}函館、横浜、神戸、長崎に加え下関が開港した。
（エ）小村寿太郎などの働きで、高度経済成長期に内容が改正された。

問2 日本は周囲を海に囲まれた島国という地理的な特徴^{とくちょう}があり、海外からの作物、技術、宗教や政治上の考え方などが入ってきました。結果として日本は大きく発展した一方で、混乱が生じたこともありました。海外からもたらされたものの「結果」について①～⑤の各問いに答えなさい。

- ① 次の地図1と2には、海外から日本に伝来したモノがたどったルートを表した矢印(→)が印されています。地図で印された矢印(→)で伝来したモノの説明として誤っているものを(ア)～(エ)からひとつ選び記号で答えなさい。

地図1



地図2



- (ア) 地図1の説明：稲作は朝鮮半島から九州に伝来した。そのあと瀬戸内から関東へと東に広まった。北海道は寒い地域でも育つ稲の品種改良^{ひんしゅかいりょう}を経て、江戸時代から明治時代にかけて広まった。
- (イ) 地図1の説明：仏教は6世紀半ばに朝鮮半島を経由し日本に伝来した。当初は仏教を積極的に取り入れようとした蘇我氏とこれに反対した物部氏^{もののべ}との間で争いが発生したが、物部氏が敗れ仏教に基づいて政治が行われた。
- (ウ) 地図2の説明：紙をつくる「製紙技術^{せいしぎじゅつ}」の伝来は16世紀半ばに南蛮人によってもたらされ、九州から全国へと広まった。紙により記録の方法が大きく変わった。
- (エ) 地図2の説明：鉄砲^{ひなわじゅう}(火縄銃)は種子島にポルトガル商人によってもたらされ、その後、多くの戦国大名が鉄砲を求めたため鉄砲は全国へと広まった。特に織田信長は大量の鉄砲を戦いで使用した。

② 16世紀半ばに、日本にもキリスト教が広まりました。戦国大名の中にはキリスト教を保護した者もありました。最初にキリスト教を日本に広めたスペイン人宣教師の名前を答えなさい。

③ 1637年、現在の長崎県から海をへだてた熊本県の島々にかけての一帯で、農民3万人あまりによる、大きな一揆^{いっき}が起きました。原因は、領主^{りょうしゅ}が領民^{りょうみん}に重い年貢^{ねんぐ}を課したとキリシタンへの弾圧^{だんあつ}でした。この事件を（ア）～（エ）からひとつ選び記号で答えなさい。

（ア）応仁の乱 （イ）大塩平八郎の乱 （ウ）島原の乱 （エ）承久の乱

④ ヤマト王権を支えていた有力な豪族^{こうぞく}たちは大宝律令（701年）を完成させました。当時日本が律令国家のしくみを参考にした国を（ア）～（エ）からひとつ選び記号で答えなさい。

（ア）モンゴル （イ）朝鮮 （ウ）タイ （エ）中国

⑤ 平安時代中期から大陸文化の影響が減り、10～11世紀には日本独自の文化が生まれました。この文化を（ア）～（エ）からひとつ選び記号で答えなさい。

（ア）国風文化 （イ）東山文化 （ウ）化政文化 （エ）弥生文化

[3] 以下のⅠ～Ⅳの文章はそれぞれ日本経済についての新聞記事の抜粋^{ばっすい}です。各記事をもとに次の問いに答えなさい。

Ⅰ 全国の公立小・中学校の給食費をタダにしようという動きが広がっている。(A)国会で野党が実現に向けた法案を提出しており、今開かれている国会で話し合いがされている。ただ、全てを対象にするには財源(お金)の問題があるほか、給食を実施^{じっし}していない学校もあることなどから「公平性」が課題となっている。

(2025年2月8日 毎日新聞15歳のニュース)

Ⅱ (B)地球温暖化の進行を止めるため、省エネ化や脱炭素化は緊急の課題だ。だが、同志^{どうし}社大の伊川萌黄助教^{しゃだいい いがわもえぎ}は、気候変動やエネルギーに関する日本の政策は高所得者ほど恩恵^{おんけい}を受け、「エネルギー貧困」に陥^{おちい}っている人ほど負担が大きくなる構造になっていると指摘する。

——「エネルギー貧困」

◆一般的に必要とされる電気やガスなどのエネルギーを、家計を圧迫^{あつぱく}せずには使用できない状態を指す。エネルギーを使うことに問題がある状態は生活の質や命を脅かす。

(2024年12月31日 毎日新聞)

Ⅲ 制度面では(C)男女平等^{きばん}に向けた基盤は整いつつあるが、現実の職場では依然^{いぜん}として多くの課題が残る。世界経済フォーラムの「ジェンダーギャップ指数(24年)」では、日本は146カ国中118位で過去最低の順位だった前年(125位)から小幅^{こはば}に持ち直したが、依然として先進国の中では極めて低い位置にある。(2025年4月23日 毎日新聞)

Ⅳ 政府は29日、2025年度の年次経済財政報告(経済財政白書)を公表した。25年春闘^{しゅんとう}での賃上げの成果を踏まえ「これまでにない明るい動きが見られる」と強調。企業による価格^{かかく}転嫁^{てんか}も進んでいることから、(D)日本経済の現状を「消費者物価が上昇しているという点で、明らかにデフレの状況にはない」と分析した。

ただ高齢化や物価高で個人消費が停滞^{ていたいぎみ}気味であることや、トランプ米政権の高関税政策の悪影響^{けいかい}には警戒を示した。(2025年7月30日 毎日新聞)

問1 下線部（A）に関して①・②それぞれの問いに答えなさい。

- ① 国会で行われる審議^{しんぎ}についての説明として誤^{まちが}っているものを（ア）～（エ）からひとつ選び記号で答えなさい。

（ア）国会での審議は、原則、委員会で審議したのちに本会議で審議を行う。

（イ）委員会の審議では全委員の2分の1以上の出席が必要になっている。

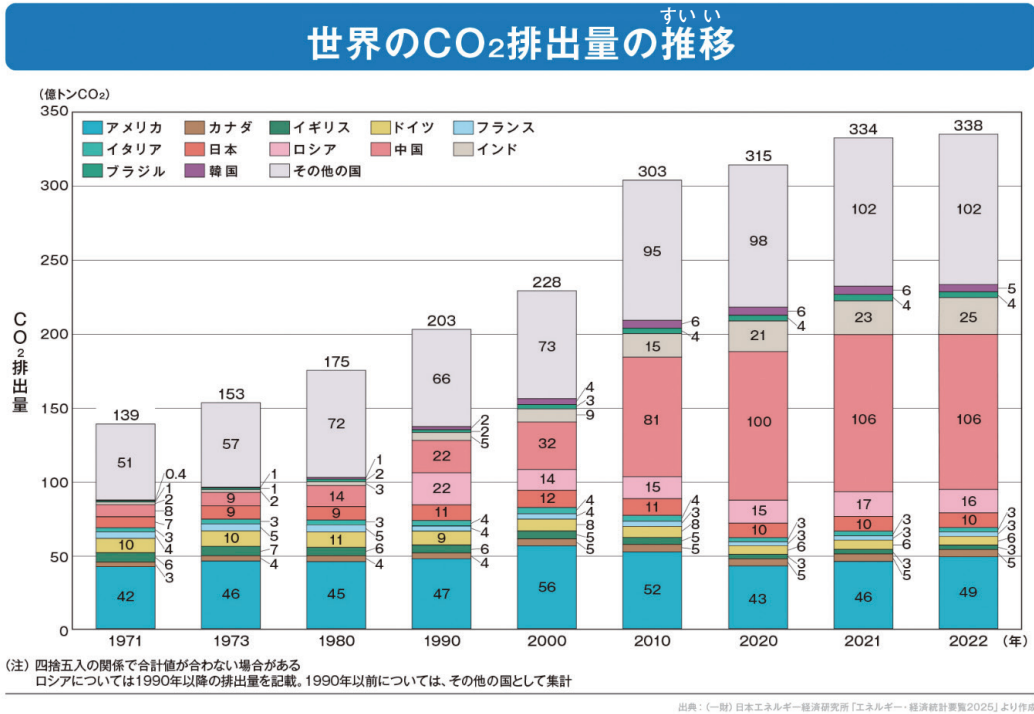
（ウ）本会議では総議員の過半数以上の出席が必要になっている。

（エ）本会議では政党の党首同士が論^{とうろん}じ合う党首討論が行われる。

- ② 国会が国権の最高機関である立場から、国の行政について調査を行い、証人^{しょうにん}を会議に出席させて証言^{しょうげん}をさせたり、記録の提出を要求したり、議員を派遣し、調査することができる権限を漢字で答えなさい。

問2 下線部（B）に関して①・②それぞれの問いに答えなさい。

- ① 以下のグラフの説明として正しいものを（ア）～（エ）からひとつ選び記号で答えなさい。



- （ア）アメリカのCO₂排出量は、1971年より2000年の方が、排出量が減少しており、2000年代を通じて排出量は減少を続けている。
- （イ）日本は高度経済成長期の1971年より、2022年の排出量は減少しており、CO₂排出量の削減に成功しているといえる。
- （ウ）2000年まではCO₂排出量が一番多い国はアメリカだったが、2010年から現在に至るまで中国のCO₂排出量が最も多い。
- （エ）ドイツは1971年から2022年の統計までCO₂排出量は毎年減少しており、ヨーロッパ諸国の中で最も低いCO₂排出量となっている。
- ② 地球温暖化防止のために1997年に日本のある都市で温室効果ガスの排出量削減目標が定められました。この議定書を答えなさい。

問3 下線部（C）に関して①～③のそれぞれの問いに答えなさい。

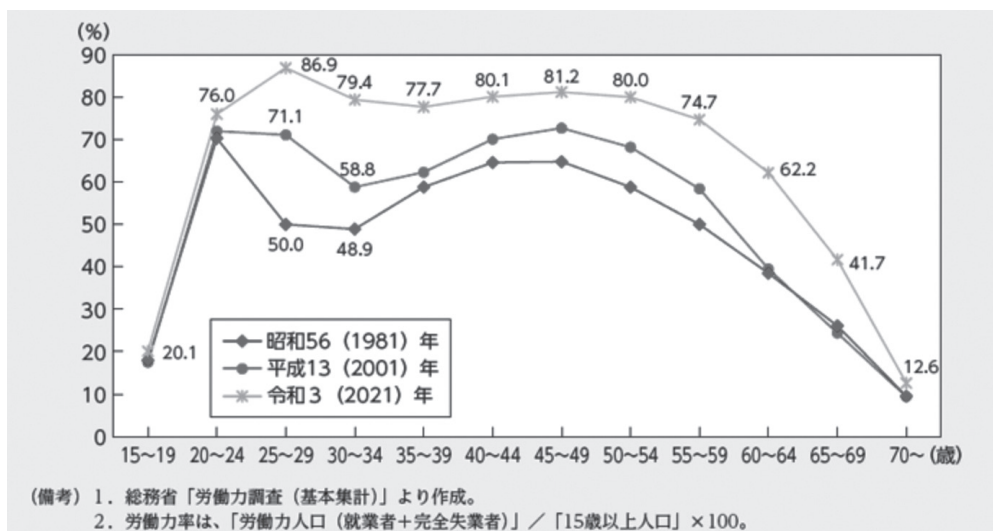
- ① 日本のジェンダーギャップ指数で特に低いのは「政治」分野です。2024年10月時点で、衆議院における女性議員の数は約16%にとどまっています。以下は、衆議院議員選挙についてまとめた表です。空欄に当てはまる組み合わせとして正しいものを（ア）～（エ）からひとつ選び記号で答えなさい。

	当選政党	懸念点 けねんてん
小選挙区制	<input type="text" value="X"/> に有利	<input type="text" value="Z"/>
比例代表制	<input type="text" value="Y"/> に有利 →より多くの人の意見が拾える	政権が安定しない 最終的な当選者の決定が政党に ゆだねられてしまっている

- （ア） : 大政党 : 小政党 : 死票が多く発生してしまう
（イ） : 大政党 : 大政党 : 死票が少なくなってしまう
（ウ） : 小政党 : 小政党 : 死票が多く発生してしまう
（エ） : 小政党 : 大政党 : 死票が少なくなってしまう

- ② 1979年国連で女子差別撤廃条約^{てっぱい}が採択^{さいたく}されました。その6年後に日本で制定された雇用^{こよう}に関して男女の差別を禁止した法律を答えなさい。

- ③ 下のグラフは女性が年齢別に仕事についているかどうかを追ったデータです。読み取れることとして正しいものを（ア）～（エ）からひとつ選び記号で答えなさい。



(男女共同参画白書 令和4年度版より)

- (ア) 1981年から2021年までで一番就業率が下がっているのは30～34歳である。
 (イ) 1981年から2021年までで一番就業率が高いのは20～24歳である。
 (ウ) 1981年と2021年を比較すると2021年のほうが女性の就業率は全年齢で高い。
 (エ) 1981年と2021年を比較すると、2021年の方が20歳代の就業率が低い。

問4 下線部（D）に関して①・②それぞれの問いに答えなさい。

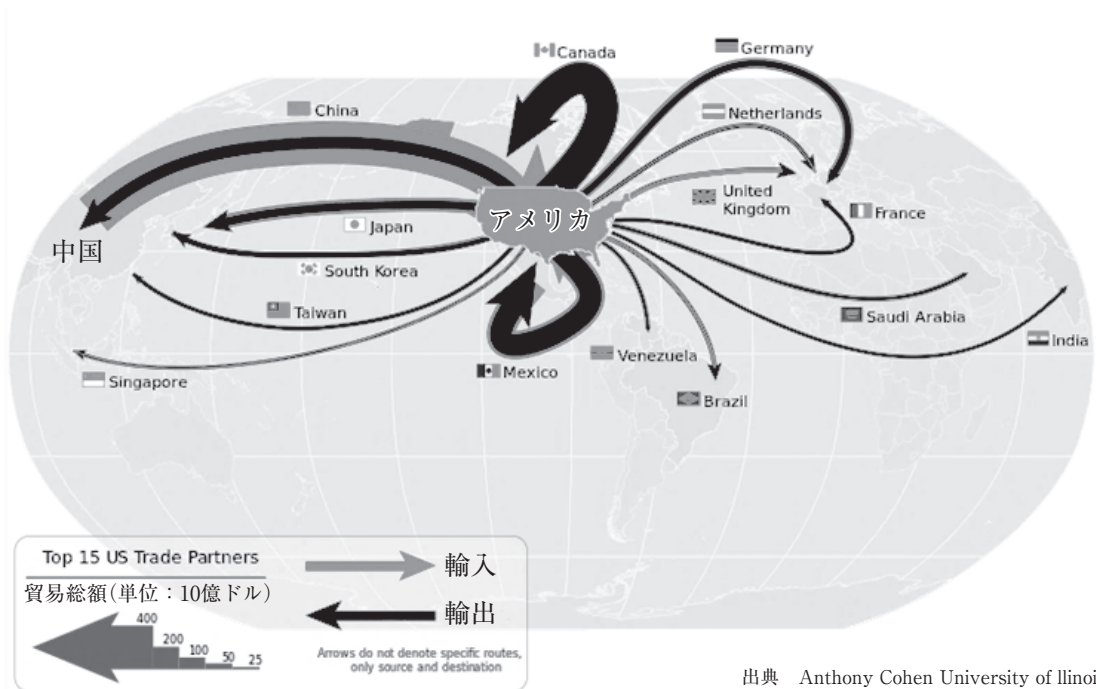
- ① 現在（2025年7月）の日本の財政についての文章として誤っているものを（ア）～（エ）からひとつ選び記号で答えなさい。

- (ア) 日本の税収の中で一番割合が多いのは消費税であり、消費税は10%である。
 (イ) 歳出のうち最も支出が多いのは社会保障費であり、今後増加することが見込まれている。
 (ウ) 歳入のうち、最も収入が多いのは公債金による収入である。
 (エ) 日本の税の中で所得税は累進課税制度が採用されている。

② 税の種類の中で間接税にあたる税を（ア）～（エ）からひとつ選び記号で答えなさい。

（ア）消費税 （イ）固定資産税 （ウ）所得税 （エ）法人税

[4] 次の地図は、アメリカの主な貿易相手国15か国に対する輸出・輸入の総額（米ドル）を示したものです。矢印の太さは、貿易額の大きさを表しています。中国はアメリカの最大の貿易相手国であり、また、中国からアメリカへの輸出額が、アメリカから中国への輸出額を大きく上回っていることがわかります。この米中貿易の状況を踏まえて、アメリカと中国にそれぞれどのような影響が予想されるかについて述べなさい。



出典 Anthony Cohen University of Illinois

※データは2011年のものです。

