

2026 年度（令和 8 年度）

# 横浜女学院中学校

## D 入学試験問題

令和 8 年 2 月 2 日（午後）

# 社 会

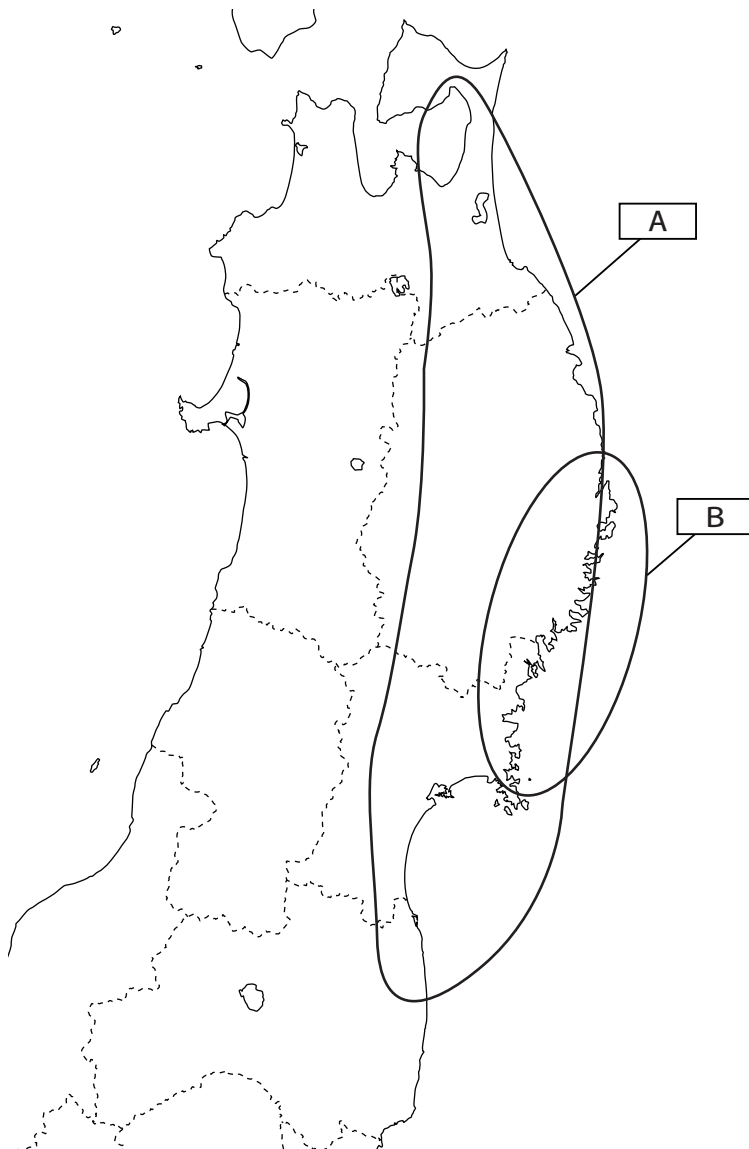
### 注 意

- 1 指示があるまで開けないでください。
- 2 問題は、12 ページあります。
- 3 解答はすべて解答用紙に記入しなさい。
- 4 試験所要時間は 30 分です。

受験番号	氏 名
------	-----



[1] 東北地方について地図を見て以下の問いに答えなさい。



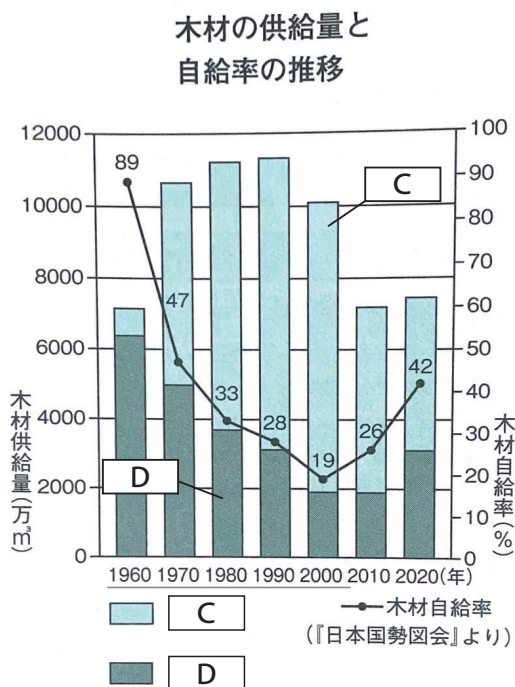
問1 **A** の地域では、寒流の千島海流と北東風の影響で初夏に冷害が起きやすい地域です。この北東風の名称をひらがな3文字で答えなさい。

問2 東北地方の漁業についての文章を読み、誤っているものを（ア）～（エ）からひとつ  
 選び記号で答えなさい。

- （ア）千島海流と対馬海流が**つしま**に出会う潮目**しおめ**が良い漁場となっている。  
 （イ）三陸海岸には、多くの漁港が集まっている。  
 （ウ）石巻では、さば・いわし・さけなどが**みずあ**げされている。  
 （エ）**おきあい**沖合漁業が行われている。

問3 **B**の海岸線に見られる、せまい湾が複雑に入り込んだ**ちんすいかいがん** **めいしょう**沈水海岸の名称を答えな  
 さい。

問4 東北地方では、林業が盛んです。以下の資料は1960～2020年までの木材の**きょうきゅう**供  
 給量と  
**じきゅうりつ** **すい**自給率の推移です。**C**と**D**は、国産もしくは外国産の木材を示しています。  
 国産木材として正しいものを**C**・**D**から選び答えなさい。



問5 東北地方では、稲作<sup>いなさく</sup>が行われています。現代では、機械化も進んでいます。稲作において刈<sup>か</sup>り取りと脱穀<sup>だっこく</sup>を同時に行う機械の名称として正しいものを（ア）～（エ）からひとつ選び記号で答えなさい。

- （ア）トラクター                      （イ）コンバイン  
（ウ）ライスセンター              （エ）カントリーエレベーター

問6 2025年4月、令和の米騒動と呼ばれる米の価格の高騰<sup>こうとう</sup>が相次ぎました。米の価格の高騰<sup>こうとう</sup>に対して、主に政府が凶作<sup>きょうさく</sup>時の供給不足に対応するため、一定量を保管している米を市場に放出しました。この政府が一定量保管している米の名称として正しいものを（ア）～（エ）からひとつ選び記号で答えなさい。

- （ア）上げ米              （イ）囲い米              （ウ）備蓄<sup>びちく</sup>米              （エ）倉米

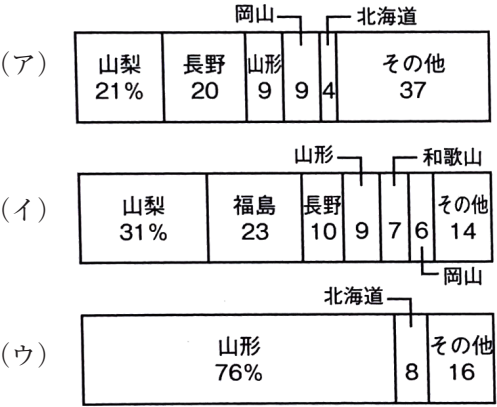
問7 東北地方で盛んな養殖<sup>ようしょくぎょう</sup>業は東日本大震災で被害を受けました。宮城県や広島県で全国トップシェアの生産量を誇る養殖として正しいものを（ア）～（エ）からひとつ選び記号で答えなさい。

- （ア）かき              （イ）うなぎ              （ウ）こい              （エ）マダイ

問8 東北地方は、山地も多く川が急流になりやすいです。東北地方の川で日本三急流に当てはまる川として正しいものを（ア）～（エ）からひとつ選び記号で答えなさい。

- （ア）北上川              （イ）最上川              （ウ）利根川              （エ）石狩川

問9 東北地方では、果実の栽培も盛んです。以下の資料は、2020年のおもな果実の都道府県別とれ高の割合です。ももに当てはまるものを（ア）～（ウ）からひとつ選び記号で答えなさい。



（『日本国勢図会2022／23』より）

[2] 貿易は歴史上、様々な国家間で行われてきました。多くの場合、貿易は国を豊かにしますが、貿易の形態によっては国を<sup>まず</sup>貧しくする場合があります。いずれにしても、人々が必要な商品・サービスを買ひ、あるいは海外にモノを売るときに貿易は<sup>か</sup>欠かせない手段です。歴史上の様々な貿易に関して各問いに答えなさい。

問1 7世紀の初めに遣隋使として隋に渡った人物を(ア)～(エ)からひとつ選び記号で答えなさい。

(ア) 菅原道真 (イ) 小野妹子 (ウ) 卑弥呼 (エ) 聖徳太子(<sup>うまやどの み こ</sup>厩戸皇子)

問2 平安時代後期に「日宋貿易」のために瀬戸内海に<sup>おお わ だのとまり</sup>大輪田泊などの港を整備した人物を(ア)～(エ)からひとつ選び記号で答えなさい。

(ア) 平清盛 (イ) 源義経 (ウ) <sup>たいらのまさかど</sup>平将門 (エ) 源頼朝

問3 日宋貿易のときの主な貿易品として誤っているものを(ア)～(エ)からひとつ選び記号で答えなさい。

(ア) 宋銭 (イ) <sup>とう じ き</sup>陶磁器 (ウ) 硫黄 (エ) 火薬

問4 <sup>かいぞく</sup>海賊対策として、<sup>かんこう ふ</sup>勘合符を使用した「勘合貿易」を主導した人物を(ア)～(エ)からひとつ選び記号で答えなさい。

(ア) <sup>たかうじ</sup>足利尊氏 (イ) <sup>よしみつ</sup>足利義満 (ウ) <sup>よしまさ</sup>足利義政 (エ) <sup>よしあき</sup>足利義昭

問5 江戸時代の「<sup>きこく</sup>鎖国体制」でも貿易は限られた形で行われていました。鎖国下の日本で、幕府によって貿易が<sup>ゆる</sup>許されていた国として誤っているものを(ア)～(エ)からひとつ選び記号で答えなさい。

(ア) オランダ (イ) 中国(明・清) (ウ) 琉球王国 (エ) ロシア

問6 「日米和親条約」の内容として正しいものを（ア）～（エ）からひとつ選び記号で答えなさい。

- （ア）日本はアメリカ船に薪水（<sup>しんすい</sup>薪と<sup>まき</sup>水）と食料を補給（<sup>ほきゅう</sup>）する義務をおった。
- （イ）この条約で開港した日本の港は横浜と下田の2港であった。
- （ウ）アメリカ商人は日本全域の自由な通行を許可された。
- （エ）アメリカは日本における領事裁判権を獲得した。

問7 幕末に結ばれた「日米修好通商条約」が不平等条約であった理由の説明として正しいものを（ア）～（エ）からひとつ選び記号で答えなさい。

- （ア）アメリカ側に不利な関税の決まりがあった。
- （イ）日本には自由に関税率を決める権利がなかった。
- （ウ）日本はアメリカに貿易品を輸出することが出来なかった。
- （エ）アメリカが日本に輸出できる貿易品が制限されていた。

問8 1955年（昭和30年）頃から約20年続いた「高度経済成長期」の日本で、国内外の市場に対して生産されていた主力製品として誤っているものを（ア）～（エ）からひとつ選び記号で答えなさい。

- （ア）洗濯機
- （イ）白黒テレビ
- （ウ）携帯電話
- （エ）冷蔵庫

問9 次の写真は1941年（昭和16年）から実用化されたガソリンのかわりに木炭で走る「木炭バス」です。このバスは、1941年8月にアメリカが日本に対して石油の禁輸措置<sup>きんゆそち</sup>を出したことをうけて開発されました。日米関係が悪化していたことがうかがえます。この時、日米が対立していた理由を答えなさい。



[3] 以下の文章を読み、問いに答えなさい。

日本は少子高齢化社会です。少子高齢化社会とは、子どもの生まれる数（出生率）が低下し続けることで「人口が減少」していく一方で、<sup>じゅみょう</sup>寿命がのびることで「高齢者の割合が増加」する社会のことを指します。日本の出生率（1人の女性が生涯<sup>しょうがいの</sup>に産む子どもの平均数）は約1.3人程度で、人口を維持<sup>いじ</sup>するために必要な2.1人を大きく下回っています。現在、日本では約30%以上が高齢者とされ、世界でも最も高齢化が進んでいる国の一つです。（A）選挙でも少子高齢化のためにどのような（B）政策を実現するかが重要なポイントの一つになっています。

少子高齢化は、労働力の減少・社会保障制度の負担増・（C）地域の過疎化<sup>かそか</sup>・税収の減少などの様々な問題を生みます。現状の出生率<sup>かいぜん</sup>が改善されなければ、日本の総人口は今後ますます減少します。例えば、現在約1億2000万人の人口は、2060年には約9000万人程度にまで減少すると予測されています。その中でも高齢者の割合はさらに増加し、2060年には日本の約40%が高齢者になる可能性があります。

日本がこれらの問題に対処するためには、AI（人工知能）技術の発展・労働環境の変化・移民政策<sup>じゅうなん か</sup>の柔軟化・地域活性化・（D）出産・子育て支援<sup>じっせん</sup>などを実践していく必要があると考えられています。

問1 下線部（A）に関して、①～③のそれぞれの問いに答えなさい。

- ① 日本における選挙についての説明として正しいものを（ア）～（エ）からひとつ選び記号で答えなさい。

（ア）第1回目の衆議院議員総選挙の有権者は直接国税15円以上を納める20歳以上の男女であった。

（イ）大正時代には投票の秘密が守られることを目的とした自由民権運動が盛んになった。

（ウ）2016年には選挙権が20歳から認められるようになり、有権者数が増加した。

（エ）公職選挙法では、選挙に関わった人物が悪質な選挙違反で有罪となった場合に候補者<sup>こうほしゃ</sup>の責任となる。

- ② 選挙区ごとに有権者1人あたりの投票価値が異なることを何というか答えなさい。
- ③ 内戦などの地域紛争が終結した場合や、混乱状態の中で新しく国が独立するときには、「自由かつ公正な選挙」が実施されることが重要です。そのため、国連が「選挙監視員」を派遣する場合があります。この活動を含む国連の平和維持活動の総称として正しいものを（ア）～（エ）からひとつ選び記号で答えなさい。

（ア） UNHCR          （イ） UNESCO          （ウ） PKO          （エ） PKF

問2 下線部（B）に関して、政策を国会で実現するのが国会議員の目標です。国会について①～③それぞれの問いに答えなさい。

- ① 衆議院議員について書かれた文章として正しいものを（ア）～（エ）からひとつ選び記号で答えなさい。

（ア）被選挙権は25歳以上で、任期は4年である。  
（イ）被選挙権は25歳以上で、任期は6年である。  
（ウ）被選挙権は30歳以上で、任期は4年である。  
（エ）被選挙権は30歳以上で、任期は6年である。

- ② 『法の精神』の中で権力の乱用を防ぐために国会のほかに内閣・裁判所に権力を分立させる考えを主張した人物として正しいものを（ア）～（エ）からひとつ選び記号で答えなさい。

（ア） ロック          （イ） モンテスキュー          （ウ） ルソー          （エ） アリストテレス

- ③ 衆議院の優越の内容として誤っているものを（ア）～（エ）からひとつ選び記号で答えなさい。

- （ア）予算案を参議院よりも先に審議する
- （イ）内閣総理大臣指名の際、衆議院の議決を国会の議決とみなす
- （ウ）憲法改正の発議
- （エ）予算の議決・条約の承認

問3 下線部（C）に関して、①・②それぞれの問いに答えなさい。

- ① 地方自治の直接民主制についての文章として正しいものを（ア）～（エ）からひとつ選び記号で答えなさい。

- （ア）国が一部の地域だけに適用する法律を作るときには住民投票を実施することができる。
- （イ）有権者の過半数の署名で首長や議員の解職を求めることができる。
- （ウ）住民からの要求を受けて、税金の使い方や行政の不正などを調査するオンブズマンの仕組みは日本でまだ導入されていない。
- （エ）地方議会は、知事や市町村長の指揮・命令によって運営される。

- ② 地方財政についての文として正しいものを（ア）～（キ）からひとつ選び記号で答えなさい。

- x. 地方交付税交付金は、地方公共団体の財政上の格差をなくすために、配分される。
- y. 国庫支出金は使い道が定められており、国が負担する。
- z. ふるさと納税は寄付することで、住んでいる自治体の住民税の減額（控除）や税務署から所得税の払い戻し（還付）を受けられる。

- （ア） x                      （イ） y                      （ウ） z                      （エ） x ・ y
- （オ） x ・ z              （カ） y ・ z              （キ） x ・ y ・ z

問4 下線部(D)に関して、出産や育児は男女の社会的なあり方に影響を受けています。  
男女差別や男女平等について書かれている文章として誤っているものを(ア)～(エ)  
からひとつ選び記号で答えなさい。

- (ア) 日本は育児・介護休業法が制定されており、男性の育児休業取得率は世界で最も高い。
- (イ) マタニティー・ハラスメントとは妊婦に対するハラスメントのことである。
- (ウ) 憲法では両性の本質的平等が第24条で規定されている。
- (エ) 男女共同参画社会基本法が1999年に公布・<sup>こうふ</sup>・<sup>しこう</sup>施行された。

[4] 自然自体に価値があり、人間と同様に尊重されるべきという「自然の生存権」という考え方があります。以下の自然に関する各問いに答えなさい。

問1 1992年、ブラジルのリオデジャネイロで国連環境開発会議が開催されました。会議のテーマとして正しいものを（ア）～（エ）からひとつ選び記号で答えなさい。

- |              |              |
|--------------|--------------|
| （ア）かけがえのない地球 | （イ）基本的環境権    |
| （ウ）持続可能な開発   | （エ）ミレニアム開発目標 |

問2 AさんとBさんの主張にそれぞれ賛成する立場からあなたの意見をひとつずつ、挙げなさい。

Aさん：私は「自然の生存権」を保障する主張に賛成だな。自然も私たちと同じように存在する権利があると思うから。

Bさん：私は自然に権利を与えるのは現実的ではないと思う。人間と動植物などの自然とは、種が異なるので、人間と同じ生存権は認められないと思う。



