

2026 年度（令和 8 年度）

横浜女学院中学校
E 入学試験問題

令和 8 年 2 月 3 日（午後）

社 会

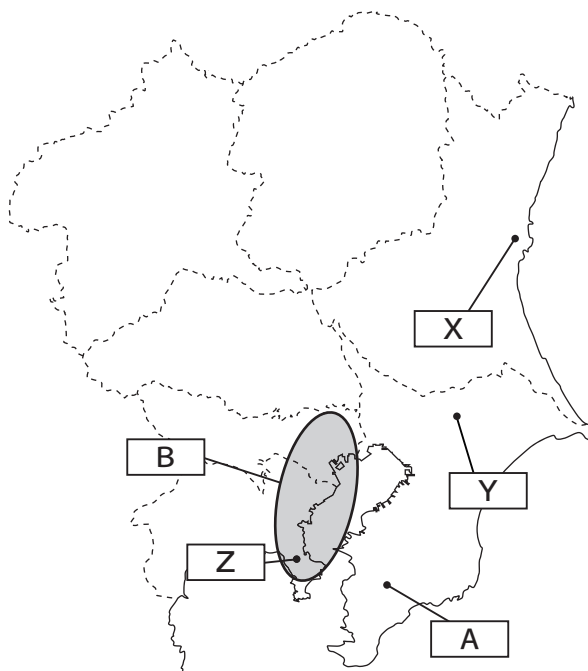
注 意

- 1 指示があるまで開けないでください。
- 2 問題は、14 ページあります。
- 3 解答はすべて解答用紙に記入しなさい。
- 4 試験所要時間は 30 分です。

受験番号	氏 名
------	-----

[1] 関東地方と日本列島について各地図を見て以下の問いに答えなさい。

地図Ⅰ



問1 地図Ⅰの **A** の半島^{めいしょう}の名称を答えなさい。

問2 関東地方では、近郊農業^{きんこうのうぎょう}が盛んです。全国生産量の上位3位に入る県と作物の組み合わせとして、誤っているものを (ア) ～ (エ) からひとつ選び記号で答えなさい。

- | | |
|-----------------|---------------|
| (ア) 群馬県・こんにゃくいも | (イ) 栃木県・かんぴょう |
| (ウ) 群馬県・さとうきび | (エ) 栃木県・いちご |

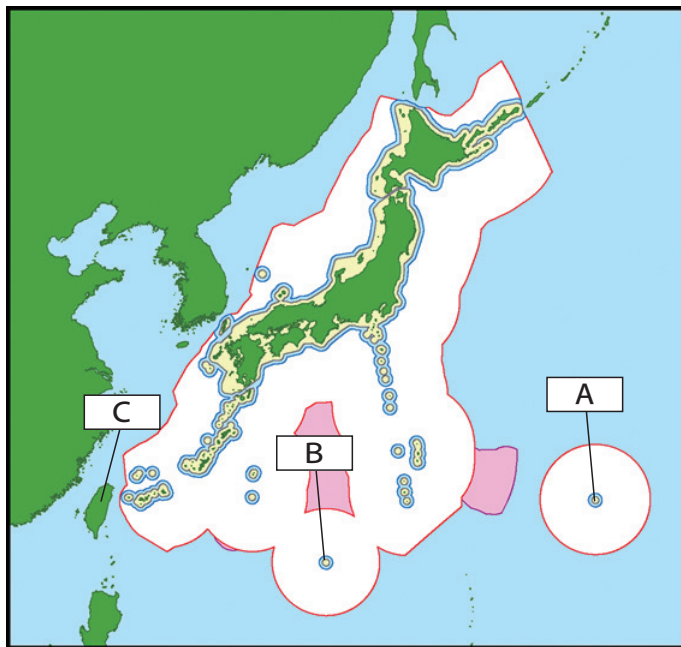
問3 地図Ⅰの **B** にあてはまる工業地帯の名称を答えなさい。

問4 成田空港の場所として正しいものを地図Ⅰの **X** ・ **Y** ・ **Z** からひとつ選んで記号で答えなさい。

問5 地図Ⅱの **A** と **B** は、どちらも東京都の島です。**A** と **B** の島の名称の組み合わせとして正しいものを（ア）～（エ）からひとつ選び記号で答えなさい。

- （ア） **A** 南鳥島 **B** 与那国島 （イ） **A** 沖ノ鳥島 **B** 与那国島
（ウ） **A** 南鳥島 **B** 沖ノ鳥島 （エ） **A** 沖ノ鳥島 **B** 南鳥島

地図Ⅱ



問6 地図Ⅱの **C** に当てはまる島名として、正しいものを（ア）～（エ）からひとつ選び記号で答えなさい。

- （ア）香港 （イ）対馬 （ウ）尖閣諸島 （エ）台湾

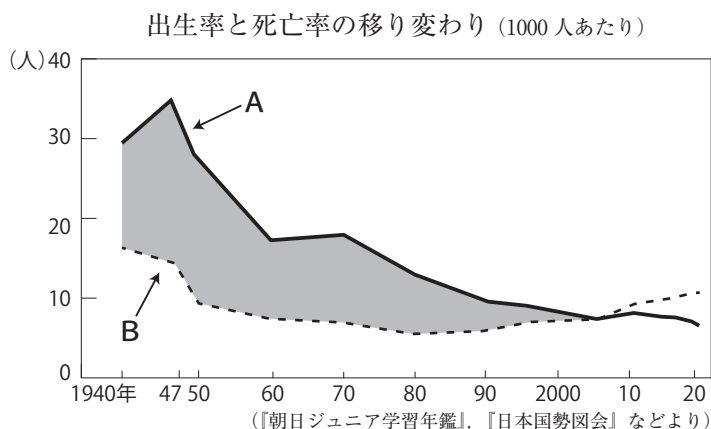
問7 関東地方の公害について説明した文章として誤っているものを（ア）～（ウ）からひとつ選び記号で答えなさい。

（ア）明治時代、群馬県では、足尾銅山^{こうどく}鉱毒事件が起こった。

（イ）江東区・^{こうとう}墨田区^{すみだ}では地下水のくみ上げによる^{じばんちんか}地盤沈下が問題となった。

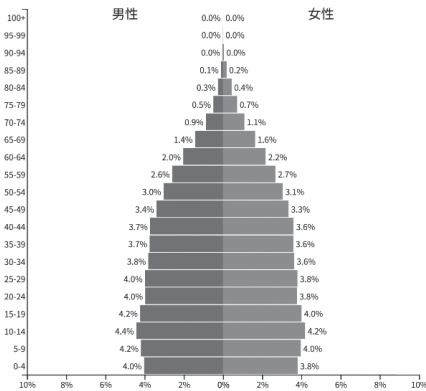
（ウ）高層ビルが立ち並ぶことにより、ドーナツ化現象が起きている。

問8 以下のグラフは、1940年～2020年までの出生率と死亡率の移り変わりです。**A**と**B**は、出生率と死亡率がそれぞれ入ります。**A**と**B**のどちらが出生率が答えなさい。

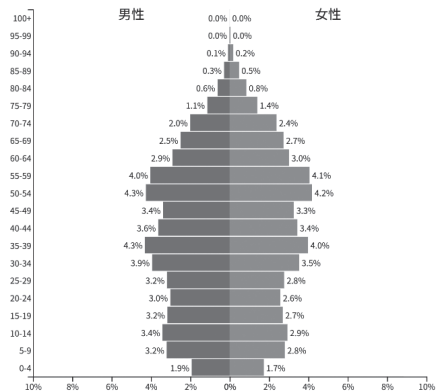


問9 以下は、2024年の日本、中国、インド、インドネシアの人口ピラミッドです。日本の人口ピラミッドとして正しいものを(ア)～(エ)からひとつ選び記号で答えなさい。

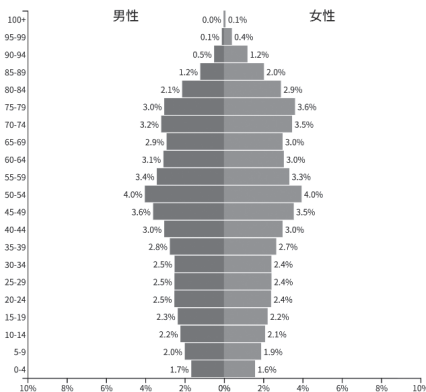
(ア)



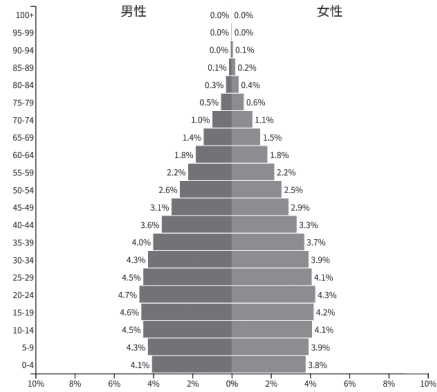
(イ)



(ウ)



(エ)



出典 Population Pyramid

[2] 社会秩序や国のしくみが大きく変わる「革命」は世界の歴史上、様々な国で起きました。しかし、歴史上どのような事件を「革命」と呼ぶかは歴史家の間でも議論がわかれます。歴史的に「革命」という概念は中国と西欧で定義が異なります。中国では前の王朝がくつがえって、別の王朝がかわって統治者（＝皇帝）となることをさしました。一方、西欧では支配されていた人々が統治者（＝支配していた人々）を倒して政治の権力を握り、国の仕組みを変えることをさします。日本の歴史上の事件におきかえた場合、どちらの定義が当てはまるかを考えるのは面白いかもしれません。歴史上の「革命」「政変」について各問いに答えなさい。

問1 中国の『三国志』という古い歴史書の中に、「倭（日本）に、卑弥呼という女王がまとめている「邪馬台国」というクニがある」という記述があります。これは日本を記録したもっとも古い資料の一つだと考えられています。『三国志』の中で倭についての記述の部分を書いた中国の王朝を（ア）～（エ）からひとつ選び記号で答えなさい。

（ア）唐 （イ）元 （ウ）魏 （エ）秦

問2 飛鳥時代におきた「壬申の乱」は天智天皇の後継者争いが原因でおきました。最終的に大海人皇子が勝利し、自らが天皇に即位したことでこの朝廷内の争いは終結しました。大海人皇子が即位後に使った名前を（ア）～（エ）からひとつ選び記号で答えなさい。

（ア）聖武天皇 （イ）天武天皇 （ウ）孝明天皇 （エ）神武天皇

問3 奈良時代は仏教の影響力が政治にも及びました。そこで仏教の影響力を減らすため、794年に都を奈良よりも遠い場所に移しました。このとき新たな都がおかれた場所を（ア）～（エ）からひとつ選び記号で答えなさい。

（ア）京都 （イ）大坂 （ウ）江戸 （エ）鎌倉

問4 次の文章は、平安時代に天皇の実権が藤原氏に移りつつあった時期の政治を説明したものです。文中の（ x ）に入る言葉を（ア）～（エ）からひとつ選び記号で答えなさい。

天皇が女性もしくは幼い、あるいは病弱で政治を行うことができない場合、天皇を補佐しながら政治の重要ごとを判断する役職を（ x ）といい、成人した天皇を補佐して政務を行う役職を（ y ）といいます。9世紀半ば以降、藤原氏がこの（ x ）と（ y ）の座を独占し、天皇をしのぐほどの権力を持って政治を行いました。

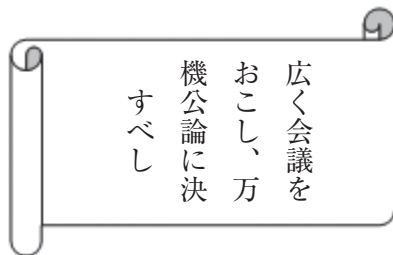
（ア）太政大臣 （イ）防人 （ウ）関白 （エ）摂政

問5 平安時代に、天皇が譲位（＝天皇が後継者に位を譲ること）してからも、朝廷に政治的な影響力を持ち続けた政治のあり方を何というか、漢字2文字で答えなさい。

問6 源氏と平家の争いは、最終的に源氏が勝利したことで鎌倉幕府の成立につながりました。源氏と平家の最後の戦いを（ア）～（エ）からひとつ選び記号で答えなさい。

（ア）壇ノ浦の戦い （イ）屋島の戦い （ウ）一ノ谷の戦い （エ）倶利伽羅峠の戦い

問7 次の資料は、江戸幕府が大政奉還を行ったあとに朝廷が出した文です。この資料の名前を（ア）～（エ）からひとつ選び記号で答えなさい。



現代語訳：広く会議を開いて、すべての事は
世の意見を聞いて決めていこう。

（ア）大日本帝国憲法公布 （イ）地租改正
（ウ）五箇条の御誓文 （エ）学制の公布

問8 1936年（昭和11年）に陸軍の一部の軍人によるクーデター未遂事件が起きました。
この事件をおこした軍人は「天皇親政」をもとめて、官庁などが立ちならぶ霞が関一帯
を占領し、高橋是清（大蔵大臣）など多くの政治家が標的となり犠牲になりました。
この事件を（ア）～（エ）からひとつ選び記号で答えなさい。

（ア）5・15事件 （イ）血盟団事件 （ウ）満州事変 （エ）2・26事件

問9 次の文章は大正時代に出版された『青鞥』という雑誌のものです。この文章を書いた
人物は、女性の参政権が認められていなかった時代に、女性の権利向上を訴えました。
女性の参政権が認められるようになったのは、この雑誌が出版されてからおよそ30年
後の1946年（昭和21年）になります。この文章を書いた人物を（ア）～（エ）からひ
とつ選び記号で答えなさい。

「もともと、女性は太陽であった。しかし今、女性は月である。ほかの光によって かが
やく、病人のような青白い月である。私たちは、かくれてしまった私たちの太陽をさが
さなければならない（一部、現代語になおしています）」

（ア）津田 梅子 （イ）平塚らいてう （ウ）与謝野 晶子 （エ）樋口一葉

[3] 次の文章Ⅰ～Ⅳは日本の「統治」に関する文章です。以下の問いに答えなさい。

- Ⅰ 「法の支配」とは、権力者による一方的な統治を否定し、権力を法によって制限することで個人の権利や自由を保障しようとする考え方です。裁判所は法を適用^{てきよう}し、紛争を解決する役割を担っています。法の支配を確立する重要な役割を果たしています。
- Ⅱ 日本は立憲君主制を採用し、憲法により天皇の地位は「日本国および日本国民統合の象徴^{しょう}」とされており、政治的権限は持っていません。(A) 天皇の役割は主に儀礼^{ぎれい}的なものであり、国会の開会式や外国大使の接受^{せつじゅ}など公的な行事に参加します。
- Ⅲ 日本の政治は議会制民主主義に基づいており、(B) 国会が立法府として機能します。国会は二院制で、衆議院と参議院から構成されています。(C) 衆議院・参議院ともに国民による選挙で選ばれます。国会には法律の制定、予算の承認、内閣総理大臣の指名などの権限があります。
- Ⅳ 日本は地方自治の原則に基づき、都道府県と市町村の地方公共団体に一定の自治権が認められています。地方自治体は独自の議会を持ち、地域に密着^{みっちやく}した行政サービスを提供しています。

問1 I に関して①～③それぞれの問いに答えなさい。

① 裁判官の任命について正しいものを（ア）～（エ）からひとつ選び記号で答えなさい。

（ア）最高裁判所の長官は内閣が指名し、天皇が任命する。最高裁判所の長官以外の裁判官は内閣が任命し、天皇が^{にんしょう}認証する。

（イ）最高裁判所の長官は天皇が指名し、内閣が任命する。最高裁判所の長官以外の裁判官は内閣が認証し、天皇が任命する。

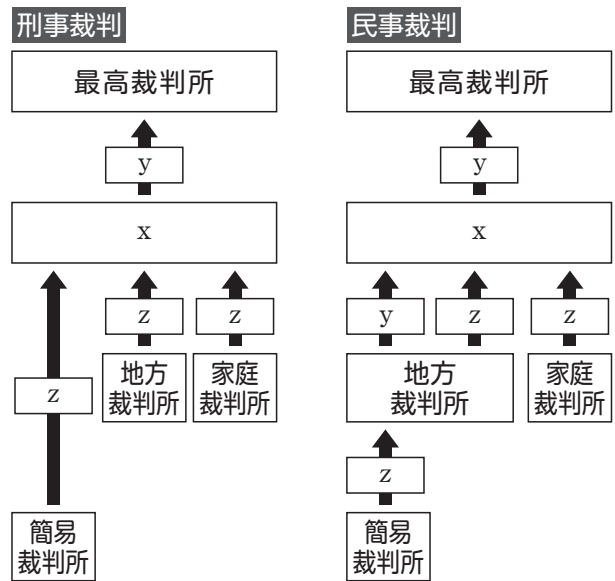
（ウ）最高裁判所の長官は内閣が指名し、天皇が任命する。最高裁判所の長官以外の裁判官は内閣が認証し、天皇が任命する。

（エ）最高裁判所の長官は天皇が指名し、内閣が任命する。最高裁判所の長官以外の裁判官は内閣が任命し、天皇が認証する。

② 最高裁判所の裁判官が^{しゅうにん}就任した後に初めて行われる衆議院の総選挙の時と10年ごとの衆議院の総選挙の時に国民から受ける判断を何というか答えなさい。

- ③ 次の図の空欄 ・ ・ に入る語句の組み合わせとして適切なものを
 (ア) ～ (エ) からひとつ選び記号で答えなさい。

- (ア) : 弾劾^{だんがい}裁判所
 : 控訴^{こうそ}
 : 上告^{じょうこく}
- (イ) : 弾劾裁判所
 : 上告
 : 控訴
- (ウ) : 高等裁判所
 : 控訴
 : 上告
- (エ) : 高等裁判所
 : 上告
 : 控訴



問2 下線部 (A) に関して、天皇が行うそれらの仕事を何というか答えなさい。

問3 下線部（B）に関して、①・②それぞれの問いに答えなさい。

- ① 日本の現在（2025年5月時点）の国会について正しいものを（ア）～（エ）からひとつ選び記号で答えなさい。

- （ア）2024年10月に衆議院議員総選挙が行われ、自由民主党・公明党が与党の連立政権であるが、少数与党である。
- （イ）2024年10月に衆議院議員総選挙が行われ、立憲民主党・国民民主党が与党の連立政権であるが、少数与党である。
- （ウ）2024年10月に参議院議員総選挙が行われ、自由民主党・公明党が与党の連立政権であるが、少数与党である。
- （エ）2024年10月に参議院議員総選挙が行われ、立憲民主党・国民民主党が与党の連立政権であるが、少数与党である。

- ② 衆議院解散後の総選挙の日から30日以内に召集^{しょうしゅう}される、内閣総理大臣の指名を行う国会として正しいものを（ア）～（エ）からひとつ選び記号で答えなさい。

- （ア）通常国会 （イ）臨時国会 （ウ）特別国会 （エ）緊急集会

問4 下線部（C）に関して①・②それぞれの問いに答えなさい。

- ① 日本の女性の選挙権について正しいものを（ア）～（エ）からひとつ選び記号で答えなさい。

- （ア）1890年の第1回帝国議会選挙時から女性に選挙権・被選挙権^ひが与えられた。
- （イ）普通選挙法が制定された際に、女性の選挙権・被選挙権も認められた。
- （ウ）第二次世界大戦後、初めて女性にも選挙権・被選挙権が認められた。
- （エ）2016年の選挙年齢が18歳に引き下げられた際に、女性の選挙権・被選挙権が初めて認められた。

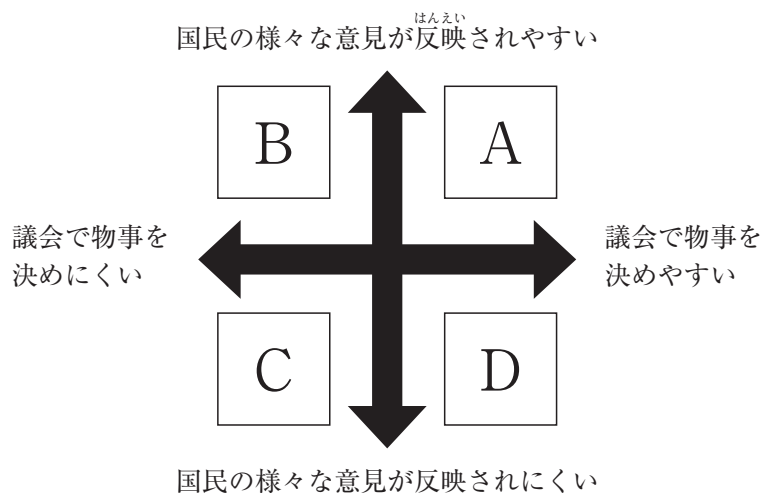
- ② 愛さんは選挙制度について調べ、小選挙区と比例代表制の特徴を次のようにまとめました。まとめをもとに小選挙区と比例代表制を分類し、図中の A ～ D のいずれかに位置付けた時の組み合わせとして最も適切なものを (ア) ～ (エ) からひとつ選び記号で答えなさい。

(小選挙区)

- ・ いずれかの政党が単独で議会の過半数の議席を得やすくなる
- ・ 死票が多くなる傾向にある

(比例代表制)

- ・ 得票の少ない政党も議席を得やすくなる
- ・ 死票が少なくなる傾向にある



- (ア) 小選挙区制 — A 比例代表制 — C
- (イ) 小選挙区制 — B 比例代表制 — D
- (ウ) 小選挙区制 — C 比例代表制 — A
- (エ) 小選挙区制 — D 比例代表制 — B

問5 地方自治について説明している文章として誤っているものを(ア)～(エ)からひとつ選び記号で答えなさい。

- (ア) 住民が自分たちの住む地域を自らの手で治めていくことを地方自治といい、憲法にも規定されている。
- (イ) 地方自治の議決機関は議会であり、条例の制定や予算の決議を行う。一般的に一院制である。
- (ウ) 執行機関^{しっこう き かん}である首長は住民の直接選挙によって選ばれ、リコールされることはない。
- (エ) 地方交付税交付金は地方公共団体の財政上の格差をなくするために国から支払われるお金である。

- [4] 近年の日本は少子高齢化が加速する中、人口面で東京・名古屋・大阪などの大都市の人口集中が進んでいます。この3都市に人が集まる理由として(※)インフラが整備されていること、仕事や教育の機会が豊富にあることなどが予想できます。このように発展した都市には地理的に共通する特徴^{とくちょう}があると考えられます。3都市の地形上の共通点^{ともな}を2つ考え、都市の発展に伴う人口増との関連を説明しなさい。
- (※) インフラとは上下水道や高速道路など社会・経済を下支えする設備のことをいいます。

